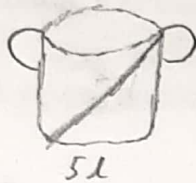


Задача 1.

Вам даны кастрюля, ведро с водой и чайник, в который необходимо как можно точнее налить воду объемом 2,5 л. Как это можно сделать? (Вместимость ведра - 8 л, кастрюли 5 л, чайника - 3 л) Сделайте пояснительный рисунок.

(7 баллов)

~~надо взять кастрюлю потому что объем 5 л
половина кастрюли это 2,5 л. надо ее
перевернуть если мы увидим две кастрюли
значит там половина.~~



7,5

Задача 2. Два друга, Петр и Павел, поехали на поезде. У Петра был билет в первый вагон, а у Павла - в последний (вагоны нумеруются от локомотива). На одной из промежуточных остановок локомотив перецепили к хвосту поезда, так, что Петр приехал в конечный пункт в последнем вагоне, а Павел - в первом. Сравните пути вагонов, в которых ехали Петр и Павел. Ответ поясните.

(7 баллов)

~~раскрытие вагонов не было значит вагоны
прошли одинаковой путь~~

3,5


Задание 3. Вставь пропущенные слова (9 баллов, по 3 балла за слово)

В океане эхолот
Слышит кита пение
Отними ты (та) у слов,-
Получится Китение

3,5

У слова «конь» и «день»
Отнимем мягкий знак.
И букву «к» из слова «акция»
В итоге мы получим не пустяк
Нам в физике известна конденсация

В слове «паром» отнимем букву «м»,




Зато добавим то, что получаем в школе.
И тут же мы получим без проблем

То, что обычно на кухонной плите, реке и в поле. на образование

3,5

Задание 4. Разгадай ребусы (по 5 баллов за каждый)



Плотность, ток, скорость, напряжение 208
43/368

Критерии оценивания и проверки маж 43 балла

Задача 1. (7 баллов)